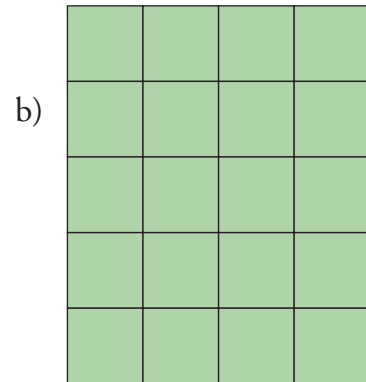
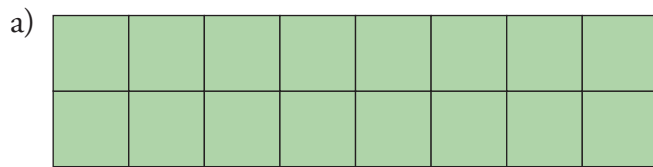


DIAGNOS MAR1

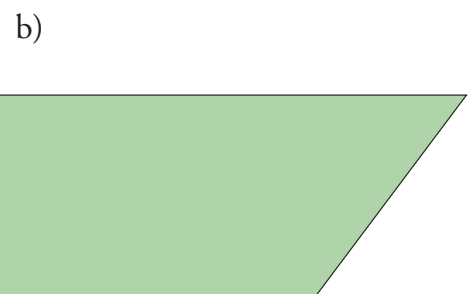
Namn _____ Klass _____

1 Vilken figur har störst area, a eller b?



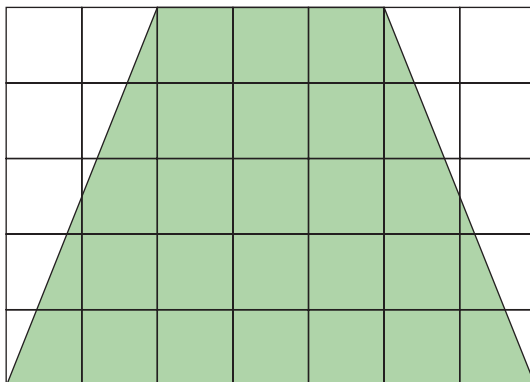
Svar: Figur _____ har störst area.

2 Figur a har arean 21 cm^2 . Hur stor area har figur b?



Svar: Figur b har arean _____ cm^2 .

3 Hur stor area har den skuggade figuren? Varje ruta har arean 1 cm^2 .



Svar: _____

DIAGNOS MAR1

- 4** En rektangel är 4 cm lång och 6 cm hög. Hur stor är arean?

Svar: _____

- 5** Rita en rektangel som har dubbelt så stor area som den skuggade rektangeln.

